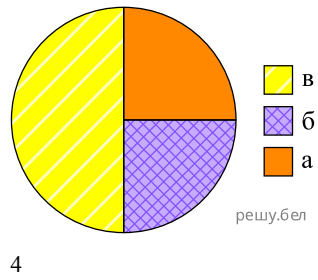
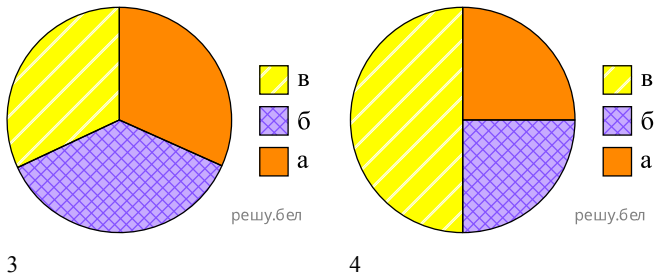
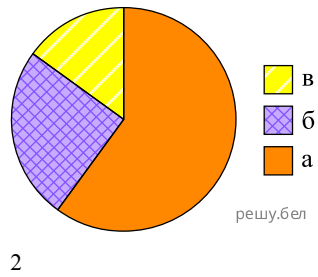
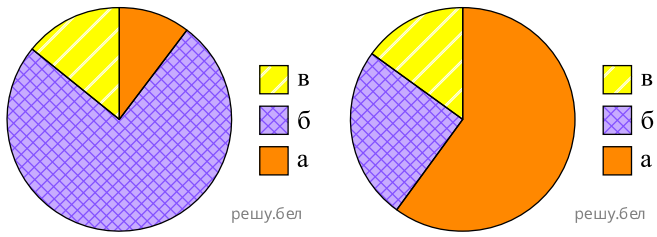


На диаграммах 1—4 показано соотношение возрастных групп особей в популяции:



- а — предрепродуктивные особи
- б — репродуктивные особи
- в — пострепродуктивные особи

Определите, какая диаграмма соответствует растущей популяции:

- 1) 1    2) 2    3) 3    4) 4